



ABTA HIGHER SECONDARY TEST PAPERS 2025-2026 SEMESTER IV 11

রচনা বৈশিষ্ট্য : হাস্যরসোজ্জ্বল, ভাবগম্ভীর, পাণ্ডিত্যের স্বতঃপ্রকাশে বাংলার চিরকালের গদ্যসাহিত্যের উজ্জ্বল রত্ন। বাংলার প্রতিভাবানদের নিত্যসভায় তাঁর অমর আসন।

মৃত্যু : ১১ ফেব্রুয়ারি, ১৯৭৪ সালে ঢাকা, বাংলাদেশে।

ENGLISH (Group-B) PROSE

1. Answer the following questions in your own words (Answer any two) : 2×2=4

(a) Why did Alice feel bored and sleepy when she was with her sister?

(b) How did Alice's fall finally end? What was she dreaming about just before the fall ended? 1×1

(c) Why did the king visit the hermit in the forest? What preparation did he take to visit the hermit? 1×1

(d) How did the Tsar help the hermit and when did he stop working?

2. Answer the following questions in your own words (Answer any one) : 1×6=6

(a) What did Alice hope would happen after eating the cake? How did she react when she didn't change in size immediately? 3+3

(b) What were the three questions proposed by the Tsar? How did he get the answers? What were the answers? 3+1+2

VERSE

3. Answer the following questions in your own words (Answer any one) : 2×2=4

(a) What does the hawk symbolize in the poem 'Hawk Roosting'?

(b) Describe the physical capability of the hawk.

(c) Why is autumn chosen as the season for comparison in Sonnet 73?

(d) Why are the choirs bare and ruined?

(e) What kind of trees will line the streets?

(f) What trees used to line up the streets before?

(g) Mention any four events that affect the public as mentioned in the poem 'The Greenhouse Effect.'

4. Answer the following questions (any one) : 1×6=6

(a) "There is no sophistry in my body"—How does this statement reflect the hawk's brutal, frankness? What deeper idea does the poet suggest through it? 3+3

(b) Discuss the various types of images as put forward by Shakespeare in Sonnet 73.

(c) How is the failure of the governments presented by Carl Dennis in his poem 'The Greenhouse Effect'? Write at least two examples from the





12. ABTA HIGHER SECONDARY TEST PAPERS 2025-2026 SEMESTER IV

poem.

4+2

DRAMA5. Answer the following questions (Answer any one) : $1 \times 5 = 5$

(a) Discuss the character of Maurya with respect to the Play 'Riders to the Sea'.

(b) "God won't leave her destitute" – Who said these words to Nora?

What does the word 'destitute' mean? Who is 'her' referred to here?

How would Bartley's death make 'her' destitute? $1+1+1+2$ **GRAMMAR**

6. Do as directed :

 $2 \times 1 = 2$

(a) Nobody will be allowed to enter the premises unless he has a valid ticket. (Split into two simple sentences)

OR

(b) "Well, it's a most remarkable thing, replied the stranger. (Change the Narration)

7. Fill in the blanks with articles and prepositions :

_____ knocking ceased suddenly, although the echoes _____ it were still in _____ house. $1 \times 3 = 3$ **WRITING**

8. Attempt either (a) or (b) :

(a) Write an essay within 150 words on Rainwater Harvesting".

[Hints :– Storing rain water for later use is called rainwater harvesting– groundwater levels low – scarcity of water becomes major issue in summer – pure drinking water hardly available – storing rain water from rooftops, land, rock catchments and using them later for irrigation, drinking and groundwater recharge. 10

OR

(b) Write an email within 75 words to the Municipal Corporation complaining about the lack of cleanliness in your area due to absence of cleaning volunteers. 5

And

Write a blog on how to decorate your room within 75 Words.

[Hints :- Cleaned the room – emptied the wall – put wallpaper – hung fairy string lights around – changed curtains, cushion, bed sheet – used aesthetic decor – room ready.] 5

MATHEMATICS**Group-A**1. যে কোনো একটি প্রশ্নের উত্তর দাও : $1 \times 2 = 2$

(a) যদি A এবং B বিন্দুদ্বয়ের স্থানাঙ্ক যথাক্রমে (2, 1, -2) এবং (-1, 5, -2) হয়, তবে





ABTA HIGHER SECONDARY TEST PAPERS 2025-2026 SEMESTER IV 29

৬.২ প্রদত্ত সূত্র বা তথ্য অবলম্বনে একটি প্রবন্ধ রচনা করো :

১০

বাদল সরকার

জন্ম : ১৫ জুলাই, ১৯২৫

পিতা : সঞ্জীবচন্দ্র সরকার

মাতা : শৈলবালা সরকার

শিক্ষাজীবন : স্কটিশ চার্চ কলেজ থেকে স্নাতক হওয়ার পর, যাদবপুর বিশ্ববিদ্যালয় থেকে সিভিল ইঞ্জিনিয়ারিং-এ ডিগ্রি লাভ করেন। বিশ্ববিদ্যালয়ে পড়ার সময় থেকেই সাহিত্য, নাটক ও সমাজবিজ্ঞানের প্রতি আগ্রহী হয়ে ওঠেন।

কর্মজীবন : ১৯৫০-এ তিনি নাট্যচর্চায় সক্রিয় হয়ে ওঠেন। প্রথম নাটক লেখেন- ‘এবং ইন্দ্রজিৎ’। ১৯৬০ থেকে Third Theatre প্রতিষ্ঠার মাধ্যমে নাটককে জনগণের কাছে নিয়ে আসেন।

নাট্যরচনা : এবং ইন্দ্রজিৎ, পাগলা ঘোড়া, বাকি ইতিহাস, ভোমা, মিছিল, বল্লভপুরের রূপকথা।

জীবনাবসান : ১৩ মে, ২০১১।

ENGLISH (Group-B)

Unit-I : PROSE

1. Answer any two of the following questions in about 30 words :

2×2=4

- Where did the Rabbit disappear?
- Why did Alice not drink the content of the ‘little bottle’ hurriedly?
- Whom did the Tsar decide to consult and why?
- What answers did the Tsar get from the scholars for his first question?

2. Answer any one of the following questions in about 120 words :

6×1=6

- What did Alice experience both physically and mentally when she fell down the rabbit hole?
- “Forgive me...” Who said this to whom? Why did the speaker ask for forgiveness?

1+1+4=6

Unit-II : VERSE

3. Answer any two of the following questions in about 30 words :

2×2=4

- ‘I sit in the top of the wood...’ Who is ‘I’? What does the word ‘wood’ symbolize here?
- ‘The sun is behind me’... What does the speaker want to mean by the line?





30 ABTA HIGHER SECONDARY TEST PAPERS 2025-2026 SEMESTER IV

(c) This thou perceivest'...What according to the poet, will perceive and what?

(d) Who will join the new great powers in the poem 'The Greenhouse Effect'?

4. Answer any one of the following questions in about 120 words :

$$6 \times 1 = 6$$

(a) 'There is no sophistry in my body'... Who is the speaker? Why is there no 'sophistry' in the speaker's body? What is the deeper significance of the line?

$$1 + 2 + 3 = 6$$

(b) How does Shakespeare explore the themes of ageing mortality and the ravages of time in Sonnet 73?

$$6$$

(c) What will be the environmental, social and economical consequences of the greenhouse effect on earth as predicted by Carl Dennis in the poem "The Greenhouse Effect"?

Unit-III : DRAMA

5. Answer any one of the following questions in about 100 words :

$$5 \times 1 = 5$$

(a) What is the significance of the title 'Riders to the Sea'?

(b) 'They're all gone now, and there isn't anything more the sea can do to me'... Who is the speaker? When does the speaker say so? What picture of the speaker's character is revealed in this line?

$$1 + 1 + 3 = 5$$

Unit-IV : GRAMMAR

5. Do as directed :

$$2 \times 1 = 2$$

(a) Five kilometers is a long distance to walk. (Split it into two simple sentences)

Or, (b) I saw a house. The house was abandoned. Its windows were broken. A strange sound was coming from inside. (Join into a complex sentence)

7. Fill in the blanks with proper articles and prepositions to complete the paragraph :

$$6 \times \frac{1}{2} = 3$$

From online education _____ digital payments, _____ use _____ technology has increased _____ every field. The youth, who are quick learners and tech-savvy are playing _____ big role _____ this change.

Unit-V : WRITING

8. (a) Write an essay on "The Impact of Social Media on Students". (Word limit : 150 words)

$$10$$

Or, (b) (i) Draft an E-mail in a proper format to the head of your institution requesting him/her for arranging extra classes before



Class 12 **ENGLISH** 4TH Semester Suggestion Notes সংগ্রহ করুন

সম্পূর্ণ PDF ইবুকটি
পেয়ে যান **EduTips**
স্টোর থেকে!



SCAN ME



**LIMITED
OFFER**



store.edutips.in



Contact Us

+91 8062179966



CALL US

+91 9907260741

ছাত্র-ছাত্রীদের জন্য
মাত্র 40 টাকায় সংগ্রহ
করে নিতে পারবে!



your final board exams. (word limit : 75 words) 5

(ii) Write a blog in a proper format on career opportunities available to the students of West Bengal after class 12. (Word limit : 75 words) 5

MATHEMATICS

1. যে কোনো একটি প্রশ্নের উত্তর দাও : 2

(a) a এর কোন মানের জন্য $2i - 3j + 4k$ ও $ai + 6j - 8k$ ভেক্টর দুটি সমরেখ।

(b) λ এর যে মানের জন্য $i - 2j, 3j + k$ এবং $\lambda i + 3j$ একতলীয় হবে তা নির্ণয় করো।

2. যে কোনো একটি প্রশ্নের উত্তর দাও : 2

(a) $(3, 7, -4)$ ও $(1, 6, -1)$ বিন্দুদ্বয়গামী সরলরেখাটির কার্তেসীয় সমীকরণ নির্ণয় করো।

(b) $\frac{x+1}{2} = \frac{y+2}{3} = \frac{z+3}{4}$ সরলরেখাটি $x+2y+4z=7$ সমতলকে যে বিন্দুতে ছেদ করে সেই বিন্দুর স্থানাঙ্ক নির্ণয় করো।

3. যে কোনো একটি প্রশ্নের উত্তর দাও : 2

(a) মান নির্ণয় করো $\int \frac{\sin \theta}{1 + \sin \theta} d\theta$

(b) মান নির্ণয় করো $\int_1^5 \left(\tan^{-1} \frac{x}{1+x^2} + \tan^{-1} \frac{1+x^2}{x} \right) dx$

4. যে কোনো একটি প্রশ্নের উত্তর দাও : 2

(a) $y = \tan x$, x অক্ষ এবং $x = \frac{\pi}{4}$ দ্বারা সীমাবদ্ধ ক্ষেত্রের ক্ষেত্রফল নির্ণয় করো।

(b) $y^2 = 4ax$ অধিবৃত্ত, y অক্ষ এবং $y = 2a$ রেখা দ্বারা সীমাবদ্ধ অঞ্চলের ক্ষেত্রফল নির্ণয় করো।

5. যে কোনো একটি প্রশ্নের উত্তর দাও : 2

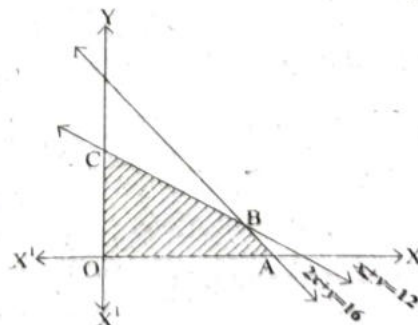
(a) $x \frac{d^3 y}{dx^3} + y^5 = \sqrt[3]{y + \left(\frac{dy}{dx} \right)^2}$ অবকল সমীকরণের ক্রম ও মাত্রা নির্ণয় করো।

(b) $y = cx + c^2$ সমীকরণের অবকল সমীকরণ নির্ণয় করো যেখানে c হল প্যারামিটার।

6. যে কোনো একটি প্রশ্নের উত্তর দাও : 2

(a) পাশের চিত্রের কার্যকরী সমাধান অঞ্চলের সাপেক্ষে $z = 40x + 30y$ বিষয়বস্তুক অপেক্ষকের সর্বোচ্চ মান নির্ণয় করো।

(b) চিত্রসহ উদ্ভল এবং অনুভল বহুভুজের সংক্ষিপ্ত আলোচনা করো।





ক্রমশ বিলুপ্ত হতে বসেছে, সে বিষয়ে আর কোনো সন্দেহ নেই। এখনকার উৎসবগুলো ক্রমশই যেন আপিসি ছাঁদে গঠিত – তার মধ্যে দেনা-পাওনা হিসেবপত্রের হাঙ্গামা যত বেশি, আনন্দ সে তুলনায় অনেক কম।

... আমার আনন্দে সকলের আনন্দ হোক, আমার শুভে সকলের শুভ হোক, আমি যা পাই তা পাঁচজনের সঙ্গে মিলিত হয়ে উপভোগ করি – এই কল্যাণী ইচ্ছাই উৎসবের প্রাণ।

৬.২ প্রদত্ত সূত্র বা তথ্য অবলম্বনে একটি প্রবন্ধ রচনা করো : ১০

জন্ম : ১৯১৮ ফেব্রুয়ারি, দিনাজপুর।

পিতা : প্রমথনাথ গঙ্গোপাধ্যায়

শিক্ষা : দিনাজপুর জেলা স্কুল, ফরিদপুর রাজেন্দ্র কলেজ, বরিশাল ব্রজমোহন কলেজ থেকে বি এ পাস (১৯৩৮), কলকাতা বিশ্ববিদ্যালয় থেকে এম এ (বাংলা) এবং ডি ফিল (১৯৬০)।

কর্মজীবন : জলপাইগুড়ি কলেজ, সিটি কলেজ (কলকাতা) এবং কলকাতা বিশ্ববিদ্যালয়ে অধ্যাপনা।

সাহিত্যকীর্তি : উপনিবেশ, শিলালিপি, পদসঞ্চার, লালমাটি, চারমূর্তি, পটলডাঙার টেনিদা, সুন্দর জার্নাল ইত্যাদি।

মৃত্যু : ৬ নভেম্বর, ১৯৭০ কলকাতা।

ENGLISH (Group-B)

1. Answer the following questions in your own words (SAQ):
(Answer any two) : 2×2=4

PROSE

- Why does Alice not like the look of her sister's book?
- What did Alice do with the potion of the bottle? How did it taste?
- What did the Tsar proclaim throughout his kingdom?
- Why did the Tsar put on simple cloth before meeting the hermit?

2. Answer any one of the following questions in your own words in about 120 words: 6×1=6

- Describe what happened when Alice fell down the rabbit-hole? 6
- What questions did arise in the mind of the Tsar? Why did the Tsar want to have the answers to the three questions? 4+2

VERSE

3. Answer any two of the following questions in your own words, each in about 40 words: 2×2=4

- Where does the hawk roost? How is it convenient for him?
- 'Which by and by black night doth take away'. – What does 'black night' refer to in this poem?
- 'We'll be glad to watch from the beach' – What does the poet want





68 ABTA HIGHER SECONDARY TEST PAPERS 2025-2026 SEMESTER IV

to mean here?

(d) What does the poet mean by 'Let them have their little time in the sun'?

4. Answer any one of the following questions in your own words, each in about 120 words: $6 \times 1 = 6$

(a) 'I kill where I please because it is all mine' – Who is 'I' referred to here? From where is the quoted line taken? What does this line signify? $1+1+4$

(b) '..... it must expire', – what does it refer to? Why must it expire? $3+3$

(c) Give the substance of the poem 'The Greenhouse Effect'.

DRAMA

5. Answer any one of the following questions in your own words in about 120 words : $5 \times 1 = 5$

(a) Analyse the title of the play, 'Riders to the Sea' specifically pointing out the irony in the play.

(b) 'The young priest is after bringing them' – Who said this and to whom? What was brought? Why did the Priest give it to the speaker? $2+1+2$

NON-TEXTUAL GRAMMAR

6. Do as directed : 5

(a) She heard the news. She burst into tears (Join into a simple sentence) $2 \times 1 = 2$

Or, (b) Seeing his end was near, Hamlet suddenly stabbed his uncle with the poisoned sword. (Split into uniclausal sentences) $2 \times 1 = 2$

7. Fill in the blanks with appropriate articles or prepositions : $1 \times 3 = 3$

We must take ——— initiative ——— deal ——— climate change before it's too late.

WRITING

8. Write an essay in about 150 words on the 'Importance of discipline in a student's life', using the following points'. 10

[Points : Introduction – best time to learn the value of discipline – roles of parents and teachers – key factors to lead a disciplined life – conclusion]

Or, Attempt both of the following : $5 \times 2 = 10$

(a) Write a blog on the merits and demerits of "Artificial Intelligence (AI)" using the given points :

[Points : Makes every task easier – Minimises human errors – reduces critical thinking – causes unemployment – should be used responsibly] (Word limit : 75 words).

(b) Write an email to your friend inviting him to your sister's marriage. (Word limit : 75 words).



**ENGLISH (Group-B)****1. Answer the following questions in your own words (SAQ) :****(Answer any two) :** $2 \times 2 = 4$

(i) How did Alice feel when she was falling down and down the rabbit hole?

(ii) Whom did Alice remember when she was in the tunnel?

(iii) Why did the Tsar go to the hermit?

(iv) What was the hermit's answer to the second question?

2. Answer the following question in your own words (LAQ)**(Answer any one) :** $6 \times 1 = 6$

(i) Explain the significance of the phrase 'down the rabbit hole' in the story.

(ii) What did the wounded man confess? How did he express his sense of gratitude to the Tsar?

3. Answer the following questions briefly (SAQ) : $2 \times 2 = 4$

(i) Do you think Shakespeare has imparted any lesson to the addressee in Sonnet 73?

(ii) How do you analyse diction and figurative language used in Sonnet 73?

(iii) Describe in brief about the central theme of the poem 'Hawk Roosting'.

(iv) Explain the line 'to rake the lawn of the library and the city hall' in reference to the poem "The Greenhouse Effect".

4. Answer any one of the following questions in your own words : 4

(i) Compare between the predatory instinct of the hawk and human behaviour throughout the poem "Hawk Roosting"?

(ii) How does Carl Dennis use imagery related to agriculture and land use to convey the poem's message about environment change?

(iii) According to the final couplet, how does the speaker's beloved perceive his state of aging? What is the central paradox presented in the final couplet of the sonnet?

5. Attempt any one question :**5**

(i) How does superstition play a great role in the one-act play "Riders to the sea"?

(ii) What is the role of the Sea in the play "Riders to the Sea"?

6. Do as directed :**5**

(i) Rabindranath Tagore was a great poet.




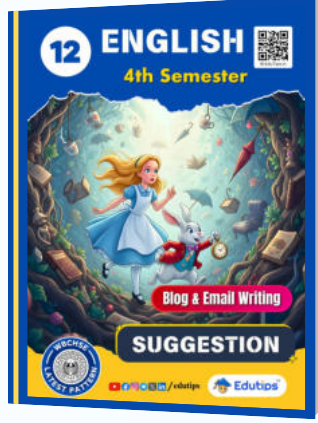


উচ্চমাধ্যমিক 4th সেমিস্টার



PREMIUM

HS 2026 পরীক্ষার সেরা প্রস্তুতি সাজেশন



বোর্ড পরীক্ষা সাজেশন & প্র্যাকটিস

Science বিভাগ: Physics, Chemistry, Math, Biology



CALL US

+91 8062179966



Contact Us

+91 9907260741



© EduTips.in

এখনই সংগ্রহ করুন

store.edutips.in





We hold him in high esteem. (Join the sentences)

OR

I still remember buying my first bicycle (Split the sentence)

(ii) She has invited both/her son-in-laws/to the party/last Sunday.
(spot the error)

(iii) Rekha said to her mother, "Let us go to the temple together."
(Turn into indirect speech)

(iv) He exclaimed in wonder that it was a very nice bird. (Turn into direct speech)

7. Write an essay on "The Rise of Artificial Intelligence" in 150 words. 10

OR

8. Compose a blog of 75 words on the topic 'The impact of Social media on youth'. Add a suitable title.

and

Draft an email to your friend describing about your recent school excursion to Kolkata.

MATHEMATICS

1. যে কোনো একটি প্রশ্নের উত্তর দাও : $2 \times 1 = 2$

(a) $\vec{a} = \hat{i} + 2\hat{j} - \hat{k}$ এবং $\vec{b} = 3\hat{i} + \hat{j} - 5\hat{k}$ হলে $\vec{a} - \vec{b}$ ভেক্টরের সমান্তরাল দিকে একটি একক ভেক্টর নির্ণয় করো।

(b) $\vec{a} = p\hat{i} + 8\hat{j} + 6\hat{k}$ এবং $\vec{b} = 3\hat{i} + 4\hat{j} + q\hat{k}$ ভেক্টর দুটি পরস্পর সমান্তরাল হলে p ও q -এর মান নির্ণয় করো।

2. যে কোনো একটি প্রশ্নের উত্তর দাও : $2 \times 1 = 2$

(a) xy সমতলে অবস্থিত কোনো সরলরেখা y অক্ষের সঙ্গে $\frac{\pi}{4}$ কোণে নত হলে রেখাটির দিককোসাইন নির্ণয় করো।

(b) $x + ky + 5z + 2 = 0$ ও $3x - 2y + kz - 1 = 0$ সমতল দুটি পরস্পর লম্ব হলে k -এর মান নির্ণয় করো।

3. যে কোনো একটি প্রশ্নের উত্তর দাও : $2 \times 1 = 2$

(a) প্রমাণ করো : $\int_0^a f(x) dx = \int_0^a f(a-x) dx$

(b) মান নির্ণয় করো : $\int \frac{e^x(1+x)}{\cos^2(xe^x)} dx$

4. যে কোনো একটি প্রশ্নের উত্তর দাও : $2 \times 1 = 2$





104 ABTA HIGHER SECONDARY TEST PAPERS 2025-2026 SEMESTER IV

संवाद मुझे

तब तक जीवित रहूँगा

- वक्ता और श्रोता का नाम लिखें। पंक्ति का आशय स्पष्ट करें।

[II] निम्नलिखित प्रश्नों में से किसी एक प्रश्न का उत्तर दीजिए (अनधिक 100 शब्दों में) :

5×1=5

(क) अंधा युग के पात्र युयुत्स के चरित्र पर प्रकाश डालें।

(ख) अश्वत्थामा की विक्षिप्त मानसिकता एवं उसके जीवन की त्रासदी को अपने शब्दों में लिखें।

4. निम्नलिखित प्रश्नों में से किसी एक प्रश्न का उत्तर दीजिए (अनधिक 150 शब्दों में) : 5×1=5

(i) युवा वर्ग में शिक्षा के प्रति जगने वाली अवहेलना की मानसिकता की ओर दृष्टि आकर्षण करते हुए शिक्षा मंत्री को एक आवेदन-पत्र लिखें।

(ii) आपके इलाके में आयोजित 'रक्तदान शिविर' पर समाचार-पत्र में छपने के लिए एक प्रतिवेदन लिखें।

ENGLISH (Group-B)

1. Answer the following briefly (any two) :

2×2=4

(a) How is the rabbit-hole described in the story?

(b) What was written on the jar that Alice picked up while falling down? What did she do with the jar?

(c) What was the first question of the Tsar?

(d) Why did the Tsar decide to consult the hermit?

2. Answer in detail (any one) :

6×1=6

(a) Describe the character of Alice in "Down the Rabbit-Hole."

(b) How did the Tsar find out the answers to his three questions?

3. Answer the following briefly (any two) :

2×2=4

(a) "I sit in the top of the wood, my eyes closed." – Who is the speaker? Why does he sit with his eyes closed?

(b) What are the advantages that the hawk mentions he possesses?

(c) "When yellow leaves, or none, or few do hang." – What do the yellow leaves symbolize in this line?

(d) What does "tuckpoint the chimney" mean in the context of the poem 'The Greenhouse Effect'?

4. Answer in detail (any one) :

6×1=6

(a) Analyze 'Hawk Roosting' as a dramatic monologue.

(b) What is the speaker's attitude to love and death in Sonnet 73?

(c) Analyze the role of the natural world in the poem 'The Greenhouse Effect' by Carl Dennis.

5. Answer in detail (any one) :

5×1=5

(a) Justify the misery of the woman folk in the 'Riders to the Sea'.



ABTA HIGHER SECONDARY TEST PAPERS 2025-2026 SEMESTER IV 105

(b) How does 'Riders to the Sea' convey the lives and beliefs of the Aran Islanders?

6. Do as directed :

2

(a) The woman lived across the street. She came to me for help. She did not have money to buy medicine [Join into a complex sentence]

Or, (b) It was a bright, sunny morning and my mother gave me a cup of coffee which was freshly brewed. [split into uniclausal sentences]

7. Mother asked, 'Don't you want some more rice?' [change the mode of narration]

3

Or, I am looking forward to meet you next sunday. [correct the error and rewrite the sentence]

8. Write an essay on the importance of afforestation in about 150 words. 10

Or, (a) Draft an e-mail within 75 words to the librarian requesting him/her to issue a new library card, since you have misplaced the original one. 5

(b) Write a blog within 75 words about the influence of cinema on the society. 5

XX

BENGALI (Group-A)

১। অনধিক একশো পঞ্চাশ শব্দে যে-কোনো একটি প্রশ্নের উত্তর দাও : $৫ \times ১ = ৫$

১.১ “তবে কথাটাকে সে ঘুরিয়ে দিল একটু অন্যভাবে, যার ফলে অবিশ্বাসীর মনে পর্যন্ত খটকা বাধা সম্ভব হয়ে উঠল।” – কোন কথার কথা বলা হয়েছে? কথাটি কে, কীভাবে ঘুরিয়ে দিয়েছিল তা লেখো। ৩+২

১.২ “কি ভয়ানক প্রতিহিংসা নিবারণের, কিছুই ও ভোলে না।” – কী কারণে নিবারণের প্রতিহিংসা? সে কীভাবে প্রতিহিংসা মিটিয়েছিল? ৩+২

২। অনধিক একশো পঞ্চাশ শব্দে যে-কোনো একটি প্রশ্নের উত্তর দাও : $৫ \times ১ = ৫$

২.১ “নিজ হস্তে নির্দয় আঘাত করি, পিতঃ,

ভারতেরে সেই স্বর্গে করো জাগরিত।” – কবি কাকে ‘পিতঃ’ সম্বোধন করেছেন? তাঁর কাছে কবি কী প্রার্থনা করেছেন? ২+৩

২.২ “আমরা বেদনাহীন-অন্তহীন বেদনার পথে।” – ‘আমরা’ বলতে কাদের কথা বলা হয়েছে? কেন তারা বেদনাহীন-অন্তহীন বেদনার পথে? ২+৩

৩। অনধিক একশো পঞ্চাশ শব্দে যে-কোনো একটি প্রশ্নের উত্তর দাও : $৫ \times ১ = ৫$

৩.১ “সেই রাত্রেই জীবনে প্রথম মোক্ষম বুঝলুম যে, যারা বলে ‘নাট্যাভিনয় একটি পবিত্র শিল্প’ – তারা সব গাধা-গাধা।” – বক্তা কখন এবং কেন এরকম সিদ্ধান্তে পৌঁছেছিলেন তা নিজের ভাষায় আলোচনা করো। ৩+২



উচ্চমাধ্যমিকের পরে ভবিষ্যৎ কিসে?

সাইন্স, আর্টস, কমার্স সকলের জন্য
নতুন প্রফেশনাল লাইনে পড়াশোনা!

সম্পূর্ণ কেরিয়ার কাউন্সিলিং, কোন পরীক্ষা দিতে হয়?
কিভাবে ভর্তি হবে? - সম্পূর্ণ পরিষেবা:



CALL US

+91 9907260741



Contact Us

+91 8062179966



Edutips™



@ edutipsbangla

www.edutips.in